

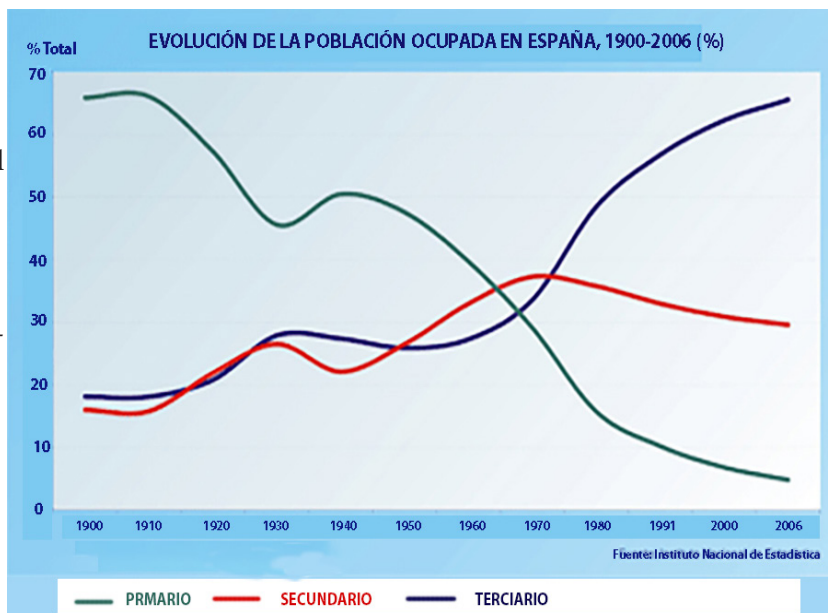
**Instrucciones:** Este examen consta de dos opciones: A y B. El alumno deberá contestar solamente a una de ellas. Como criterio general de corrección para el conjunto de la prueba se valorará la presentación, la ortografía y la redacción.

## OPCIÓN A

**I.- EJERCICIO PRÁCTICO.** Máximo: 2.5 puntos.

Analizar el gráfico de la derecha siguiendo el siguiente guion:

- 1.- Explicar qué es lo que describe.
- 2.- Describir la evolución de cada línea y buscar una explicación de la tendencia general y de los distintos ritmos de variación.
- 3.- Relacionar esa explicación con la evolución de la economía española durante el siglo XX



**II.- EJERCICIO TEÓRICO.** Puntuación máxima: 3 puntos (1,5 para cada pregunta)

Responda a DOS de las siguientes preguntas:

- a) Unidades del relieve. Los relieves exteriores a la Meseta.
- b) Los problemas medioambientales de España y de Castilla-La Mancha.
- c) El transporte. Tipos y redes.

**III.- CONCEPTOS.** Puntuación máxima: 2 puntos (0,5 para cada pregunta).

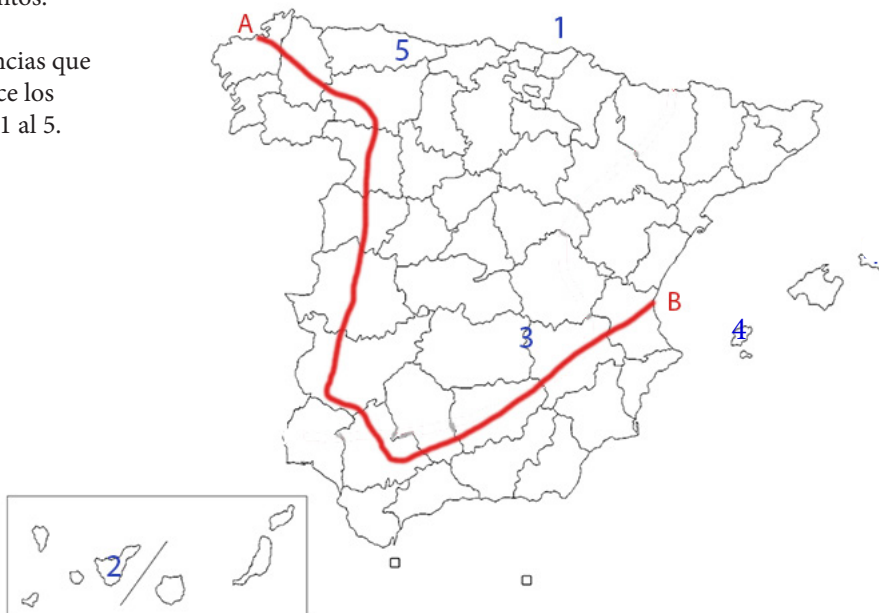
Defina CUATRO de estos seis conceptos:

- |                    |   |                    |   |                     |
|--------------------|---|--------------------|---|---------------------|
| Escala             | - | Solsticio          | - | PAC                 |
| Parque Tecnológico | - | Bosque caducifolio | - | Vegetación xerófila |

**IV.- LOCALIZACIÓN.** Máximo: 2.5 puntos.

Cite las unidades del relieve, ríos y provincias que atraviesa la línea desde A hasta B y localice los topónimos en los lugares numerados del 1 al 5.

- 1.- Accidente costero
- 2.- Pico
- 3.- Humedal
- 4.- Isla
- 5.- Parque Nacional



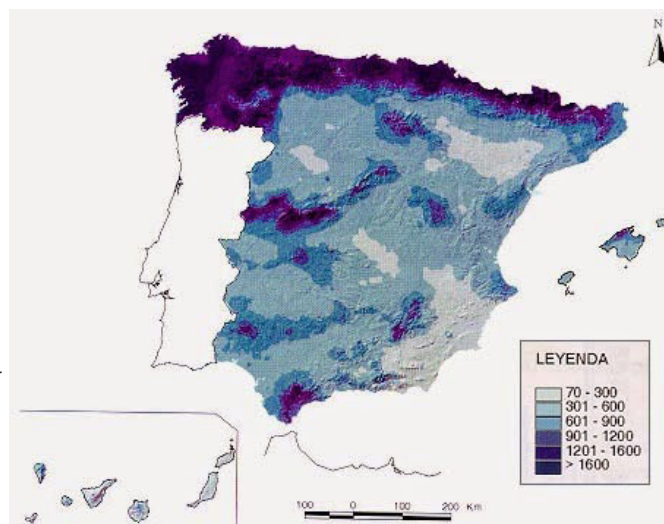
**Instrucciones:** Este examen consta de dos opciones: A y B. El alumno deberá contestar solamente a una de ellas. Como criterio general de corrección para el conjunto de la prueba se valorará la presentación, la ortografía y la redacción.

## OPCIÓN B

### I.- EJERCICIO PRÁCTICO. Máximo: 2.5 puntos.

Analizar el **mapa de isoyetas** de la derecha siguiendo el siguiente guion:

- 1.- Describir los rasgos generales de la distribución del fenómeno del que se ocupa el mapa.
- 2.- Explicar los factores geográficos que explican esa distribución.
- 3.- Razonar qué consecuencias económicas tiene esa distribución.



### II.- EJERCICIO TEÓRICO. Puntuación máxima: 3 puntos (1,5 para cada pregunta)

Responda a DOS de las siguientes preguntas:

- a) Los movimientos naturales de la población. Regímenes demográficos.
- b) La industria en la actualidad. Sectores y distribución.
- c) El turismo. Problemas y tipología.

### III.- CONCEPTOS. Puntuación máxima: 2 puntos (0,5 para cada pregunta).

Defina CUATRO de estos seis conceptos:

- |                     |   |                   |   |                       |
|---------------------|---|-------------------|---|-----------------------|
| Cuenca sedimentaria | - | Modelado kárstico | - | Relieve apalachense.  |
| Acuífero.           | - | Régimen fluvial   | - | Tratado de Maastrich. |

### IV.- LOCALIZACIÓN. Máximo: 2.5 puntos.

Cite las unidades del relieve, ríos y provincias que atraviesa la línea desde A hasta B y localice los topónimos en los lugares numerados del 1 al 5.

- 1.- Accidente litoral.
- 2.- Capital autonómica.
- 3.- Parque Nacional.
- 4.- Isla.
- 5.- Pico montañoso.

